



**ATIVIDADES COMPLEMENTARES DE ESTUDO – COVID 19**

**ROTEIRO DE ATIVIDADES COMPLEMENTARES DE ESTUDO – COVID 19  
4º ROTEIRO**

**ESCOLA MUNICIPAL DR. VITÓRIO FRANKLIN**

**PROFESSORA: LUCI ANE FERNANDES TURMA: Sala de Recurso B - Grupo 2**

**COMPONENTES CURRICULARES: LÍNGUA PORTUGUESA, MATEMÁTICA E HABILIDADES**

**NOME :** \_\_\_\_\_

**PERÍODO DE REALIZAÇÃO: 15 a 18 de março**

<b>O QUE VOCÊ VAI ESTUDAR:</b>	<ul style="list-style-type: none"><li>➤ Língua Portuguesa: Produção de texto, ortografia TR.</li><li>➤ Matemática: tabela e gráfico</li><li>➤ Coordenação visomotora: lançamento de bola</li></ul>
<b>PARA QUE VAMOS ESTUDAR ESSES CONTEÚDOS?</b>	<ul style="list-style-type: none"><li>➤ Coordenação visomotora: Desenvolver a atenção e a agilidade de raciocínio.</li><li>➤ Língua portuguesa: Escrever um texto com sequência e pontuação. Identificar o som do TR nas palavras.</li><li>➤ Matemática: Interpretar tabelas e gráficos.</li></ul>
<b>COMO VAMOS ESTUDAR OS CONTEÚDOS?</b>	<ul style="list-style-type: none"><li>➤ Lendo e respondendo as atividades propostas pela professora, gravando vídeos e enviando fotos.</li></ul>

## **Coordenação visomotora**

Material: uma bola pequena, pode ser uma bola de meia.

Desenvolvimento: andando em linha reta, lançar a bola para cima e segurar, primeiro com as duas mãos, ir até um lugar e voltar, depois jogar com uma mão e pegar com a outra.

(Se possível gravar o vídeo da atividade ou foto)







**ATIVIDADES COMPLEMENTARES DE ESTUDO – COVID 19**

**2- COMPLETE AS PALAVRAS COM **TR** E DEPOIS A CRUZADINHA DE ACORDO COM A NUMERAÇÃO:**

1-  AÇO

5-  AICÃO

2-  ANÇA

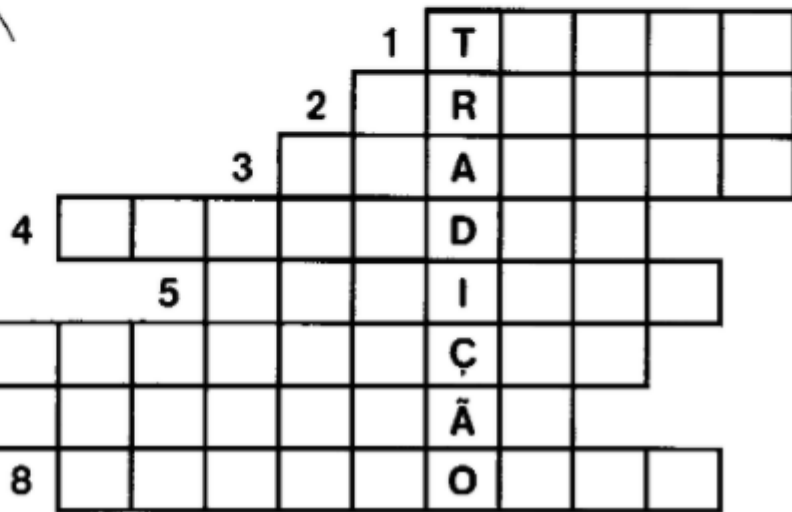

6-  ANSFORMAÇÃO

3-  ACAJÁ

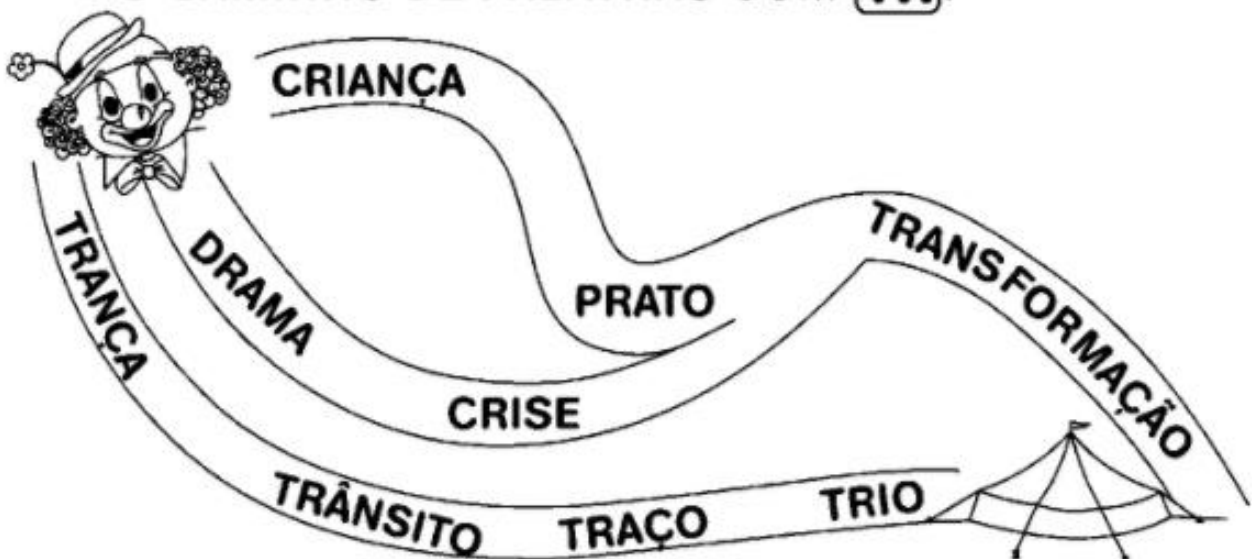
7-  ADUÇÃO

4-  AGÉDIA

8-  AMBOLHO



**3- LEVE O PALHAÇO ATÉ O CIRCO SEGUINDO SOMENTE O CAMINHO DE PALAVRAS COM **TR**:**





**ATIVIDADES COMPLEMENTARES DE ESTUDO – COVID 19**

4- Escreva uma frase usando as palavras com **TR do** exercício anterior:

---

---

---

---

**Matemática**

1- Leandro vende salgado na feira. Veja a tabela de vendas da semana:

Tipo de salgado	Quinta –feira	Sexta-feira	Sábado	Domingo
Coxinha	86	34	74	126
Pastel	77	94	119	45
Quibe	80	32	49	97

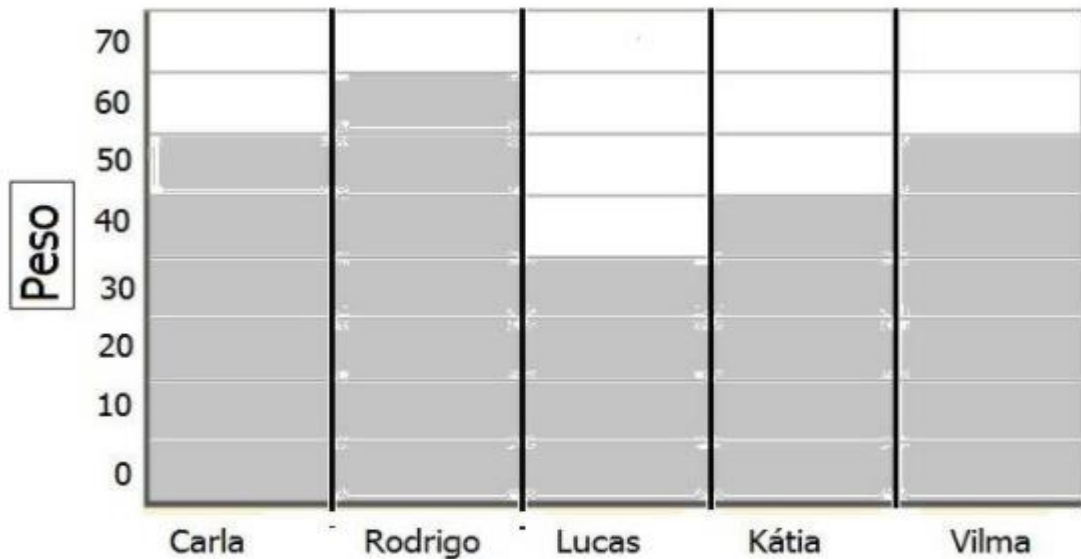
- a- Quantos quibes Leandro vendeu no sábado? \_\_\_\_\_
- b- Quantos salgados ele vendeu na sexta-feira? \_\_\_\_\_
- c- Qual dia Leandro vendeu menos salgado? \_\_\_\_\_
- d- Quantos pastéis ele vendeu ao todo no sábado e no domingo? \_\_\_\_\_
- e- Qual o salgado mais vendido na semana e quantos ele vendeu?  
\_\_\_\_\_



**SECRETARIA MUNICIPAL DE EDUCAÇÃO**

**ATIVIDADES COMPLEMENTARES DE ESTUDO – COVID 19**

2- O gráfico mostra o peso de 5 atletas. Observe e responda as questões:



- a- Que atleta pesa 60 quilos? \_\_\_\_\_
- b- Quantos quilos pesam os 5 atletas juntos? \_\_\_\_\_
- c- Que atleta pesa menos? \_\_\_\_\_
- d- Quantos quilos faltam para Lucas empatar com Rodrigo? \_\_\_\_\_  
\_\_\_\_\_
- e- Quais atletas tem o mesmo peso? \_\_\_\_\_  
\_\_\_\_\_
- f- E você quanto pesa? \_\_\_\_\_